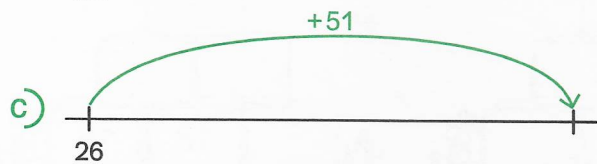
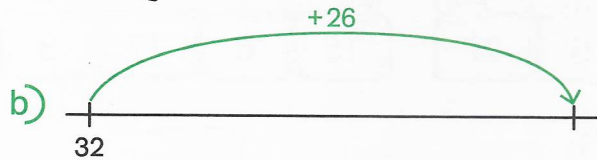
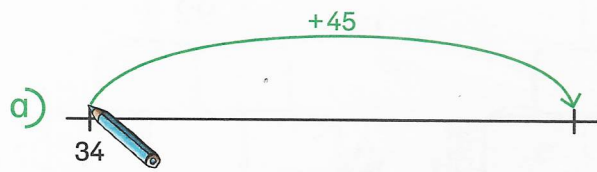
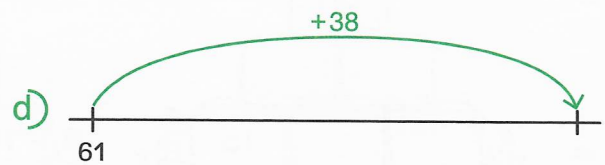


Plusaufgaben am Rechenstrich in Schritten lösen

1 Rechne mit deinem Rechenweg.
Zeichne deine beiden Rechenschritte ein.




Was ist für mich leichter? Zuerst die Zehner dazu oder zuerst die **Einer** dazu?




2 Rechne mit deinem Rechenweg. Schreibe deine Rechenschritte auf.
Du kannst auch zuerst am Rechenstrich zeichnen.


a) $25 + 43 = \square$
 $\square + \square = \square$
 $\square + \square = \square$



b) $52 + 36 = \square$
 $\square + \square = \square$
 $\square + \square = \square$



c) $43 + 34 = \square$
 $\square + \square = \square$
 $\square + \square = \square$



3 Rechne im Kopf. Trage nur die Ergebnisse ein.

a) $61 + 28 = 89$ b) $42 + 23 = \square$ c) $56 + 33 = \square$ d) $71 + 23 = \square$
 $34 + 35 = \square$ $71 + 17 = \square$ $34 + 22 = \square$ $41 + 58 = \square$
 $56 + 41 = \square$ $25 + 52 = \square$ $62 + 16 = \square$ $13 + 62 = \square$