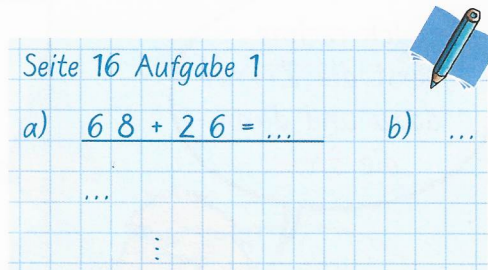




1 Reche mit deinem Rechenweg.  
Stelle deine Rechenschritte dar.

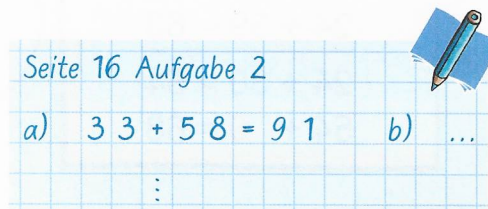
a)  $68 + 26 = \blacksquare$     b)  $69 + 18 = \blacksquare$   
 $25 + 37 = \blacksquare$      $24 + 69 = \blacksquare$   
 $74 + 17 = \blacksquare$      $29 + 37 = \blacksquare$   
 $49 + 19 = \blacksquare$      $26 + 58 = \blacksquare$

c)  $58 + 15 = \blacksquare$   
 $65 + 28 = \blacksquare$   
 $29 + 13 = \blacksquare$   
 $57 + 28 = \blacksquare$



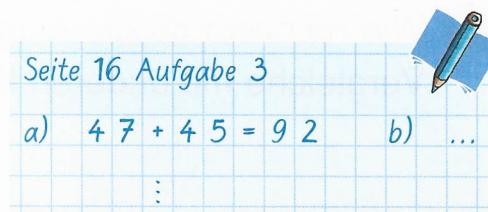
2 Löse die Aufgaben.  
Schreibe sie mit dem richtigen Ergebnis auf.

a)  $33 + 58 = \blacksquare$     b)  $23 + 38 = \blacksquare$   
 $24 + 47 = \blacksquare$      $38 + 24 = \blacksquare$   
 $25 + 36 = \blacksquare$      $44 + 47 = \blacksquare$   
 $46 + 26 = \blacksquare$      $58 + 39 = \blacksquare$



3 Kontrolliere die Aufgaben.  
Tipp: In jedem Päckchen sind zwei Aufgaben falsch.

a)  $44 + 18 = 62$     b)  $38 + 23 = 61$   
 $47 + 45 = 29$      $36 + 48 = 74$   
 $27 + 55 = 82$      $49 + 32 = 81$   
 $36 + 45 = 18$      $28 + 34 = 52$



4 Du findest in den Aufgaben 3 a) und 3 b) jeweils gleiche Fehler. Schreibe auf, was falsch gemacht wurde.

